

1. K názvům období v rámečkách přiřaď nálezy, které z tohoto období pochází. Když budeš pracovat správně, vyjde ti název oboru, který se těmito nálezy zabývá.

PRAVĚK

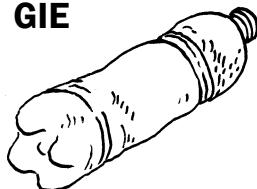
STŘEDOVĚK

SOUČASNOST

OLO



GIE



ARCHE



Jak se nazývá obor, který se zabývá dávnými lidskými civilizacemi a jejich pozůstatky?

□	□	□	□	□	□	□	□	□	□
---	---	---	---	---	---	---	---	---	---

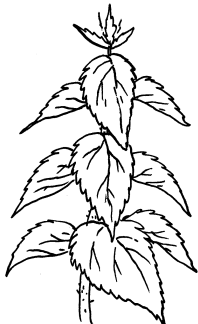
2. Na činnost člověka poukazoval také výskyt některých druhů rostlin. Spoj správně období, rostlinu a její význam. Když budeš pracovat správně, vyjde ti název oboru, který se zabývá významem rostlin v historických obdobích.

PRAVĚK


STŘEDOVĚK

SOUČASNOST

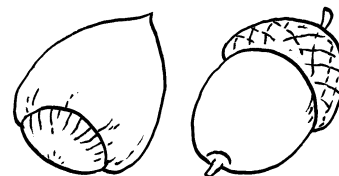
TAN



ARCHE



OBO



A

místo likvidace
odpadů

I

potravina k jídlu (syrové,
vařené i pečené)

K

výroba mouky
a oleje

Jak se nazývá obor, který pomocí nálezů rostlinných zbytků studuje použití rostlin v historické společnosti?

□	□	□	□	□	□	□	□	□	□	□	□
---	---	---	---	---	---	---	---	---	---	---	---