




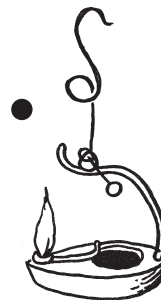
1) Namaluj obrázek, jak si mohli lidé svítit, nebo si stále svítí v těchto obydlích:



2) Na kterém z obrázků se svítí pouze tím, co najdeš v přírodě? A, B, nebo C?



3) Dokážeš čarou spojit postavy a jejich světla?



4) Poznáš, co je na obrázku, a dokážeš obrázek dokreslit?